

**SSB  
ASI**

**Previous Year Paper  
(Stenographer)  
27 Dec, 2023 Shift 2**

भारत सरकार  
गृह मंत्रालय  
महानिदेशक कार्यालय, सशस्त्र सीमा बल  
ईस्ट ब्लॉक -5, आर.के.पुरम -1, नई दिल्ली -66  
वेबसाइट: -www.ssbrectt.gov.in



Government of India  
Ministry of Home Affairs  
Office of the Director General  
Sashastra Seema Bal  
East Block-V, R.K.Puram -1  
New Delhi-66  
Website: - www.ssbrectt.gov.in

Participant ID	
Participant Name	
Test Center Name	
Test Date	27/12/2023
Test Time	2:00 PM - 5:00 PM
Subject	ASI Stenographer

Section : General Knowledge

Q.1 भारतीय संविधान ने निम्नलिखित में से किस देश के संविधान से नीति निर्देशक सिद्धांतों को अपनाया है?

- Ans  1. आयरिश संविधान  
 2. अमेरिकी संविधान  
 3. ब्रिटिश संविधान  
 4. कनाडा का संविधान

Question ID : 630680513305  
Option 1 ID : 6306802005924  
Option 2 ID : 6306802005923  
Option 3 ID : 6306802005922  
Option 4 ID : 6306802005925  
Status : Answered  
Chosen Option : 2

Q.2 'टॉम्ब ऑफ सैंड' प्रतिष्ठित अंतर्राष्ट्रीय बुकर पुरस्कार 2022 से सम्मानित होने वाला पहला हिंदी उपन्यास बन गया है। मूल रूप से 'रेत समाधि' नाम से प्रकाशित इस पुस्तक के लेखक निम्नलिखित में से कौन हैं?

- Ans  1. नवतेज सरना  
 2. गीतांजलि श्री  
 3. मानसी गुलाटी  
 4. हरीश मेहता

Question ID : 630680513299  
Option 1 ID : 6306802005901  
Option 2 ID : 6306802005898  
Option 3 ID : 6306802005899  
Option 4 ID : 6306802005900  
Status : Answered  
Chosen Option : 2

Q.3 यदि कोई व्यक्ति बिना सांसद बने मंत्री बन जाता है तो ऐसे व्यक्ति को कितने समय के अंदर संसद के दोनों सदन में से किसी भी एक सदन लिए निर्वाचित होना पड़ता है?

- Ans
- 1. एक वर्ष के अंदर
  - 2. तीन महीने के अंदर
  - 3. छह महीने के अंदर
  - 4. नौ महीने के अंदर

Question ID : 630680513306  
Option 1 ID : 6306802005927  
Option 2 ID : 6306802005928  
Option 3 ID : 6306802005926  
Option 4 ID : 6306802005929  
Status : Answered  
Chosen Option : 2

Q.4 निम्नलिखित में से कौन सा विश्वविद्यालय 1854 के वुड्स डिस्पैच के तहत स्थापित नहीं किया गया था?

- Ans
- 1. बंबई
  - 2. कलकत्ता
  - 3. मद्रास
  - 4. कानपुर

Question ID : 630680513295  
Option 1 ID : 6306802005883  
Option 2 ID : 6306802005882  
Option 3 ID : 6306802005884  
Option 4 ID : 6306802005885  
Status : Answered  
Chosen Option : 4

Q.5 लूनी नदी का संबंध निम्नलिखित में किस भारतीय राज्य से है?

- Ans
- 1. ओडिशा
  - 2. राजस्थान
  - 3. बिहार
  - 4. उत्तर प्रदेश

Question ID : 630680513302  
Option 1 ID : 6306802005910  
Option 2 ID : 6306802005913  
Option 3 ID : 6306802005912  
Option 4 ID : 6306802005911  
Status : Answered  
Chosen Option : 2

Q.6 'तेज़ और अधिक समावेशी विकास की ओर' निम्नलिखित में से किस पंचवर्षीय योजना का उद्देश्य था?

- Ans
- 1. तीसरी पंचवर्षीय योजना
  - 2. प्रथम पंचवर्षीय योजना
  - 3. ग्यारहवीं पंचवर्षीय योजना
  - 4. चौथी पंचवर्षीय योजना

Question ID : 630680513294  
Option 1 ID : 6306802005880  
Option 2 ID : 6306802005878  
Option 3 ID : 6306802005879  
Option 4 ID : 6306802005881  
Status : Answered  
Chosen Option : 3

Q.7 निम्नलिखित में से किसका चुनाव एकल संक्रमणीय मतदान प्रणाली के साथ आनुपातिक प्रतिनिधित्व के सिद्धांत के अनुसार किया जाता है?

- Ans
- 1. राष्ट्रपति
  - 2. मंत्रियों की परिषद
  - 3. प्रधानमंत्री
  - 4. भारत के मुख्य न्यायाधीश

Question ID : 630680513307  
Option 1 ID : 6306802005931  
Option 2 ID : 6306802005932  
Option 3 ID : 6306802005930  
Option 4 ID : 6306802005933  
Status : Answered  
Chosen Option : 1

Q.8 नारायण कार्तिकेयन निम्नलिखित में से किस खेल से सम्बंधित हैं?

- Ans
- 1. शतरंज
  - 2. मोटर रेसिंग
  - 3. स्नूकर
  - 4. क्रिकेट

Question ID : 630680513309  
Option 1 ID : 6306802005941  
Option 2 ID : 6306802005940  
Option 3 ID : 6306802005938  
Option 4 ID : 6306802005939  
Status : Answered  
Chosen Option : 3

Q.9 \_\_\_\_\_ ने उत्कृष्टता का एक नया केंद्र स्थापित किया है - एटीएमएएन (एयर-क्वालिटी आईंडिकेटर्स की निगरानी के लिए उन्नत तकनीक) जो वायु गुणवत्ता को बढ़ाने के लिए स्वदेशी कम लागत वाले सेंसर निर्माण और एआई/एमएल क्षमताओं के निर्माण पर ध्यान केंद्रित करेगा।

- Ans
- 1. आईआईटी रूड़की
  - 2. आईआईटी खड़गपुर
  - 3. आईआईटी कानपुर
  - 4. आईआईटी मद्रास

Question ID : 630680513286  
Option 1 ID : 6306802005848  
Option 2 ID : 6306802005847  
Option 3 ID : 6306802005846  
Option 4 ID : 6306802005849  
Status : Answered  
Chosen Option : 1

Q.10 भारतीय रिज़र्व बैंक का मुख्यालय निम्नलिखित में से किस स्थान पर स्थित है?

- Ans
- 1. कोलकाता
  - 2. नई दिल्ली
  - 3. मुंबई
  - 4. चेन्नई

Question ID : 630680513293  
Option 1 ID : 6306802005875  
Option 2 ID : 6306802005876  
Option 3 ID : 6306802005877  
Option 4 ID : 6306802005874  
Status : Answered  
Chosen Option : 3

Q.11 पूर्ण मैराथोन दौड़ की कुल दूरी कितने किलोमीटर होती है?

- Ans
- 1. 42.195 कि.मी
  - 2. 42.159 कि.मी
  - 3. 42 कि.मी
  - 4. 42.591 कि.मी

Question ID : 630680513308  
Option 1 ID : 6306802005934  
Option 2 ID : 6306802005935  
Option 3 ID : 6306802005937  
Option 4 ID : 6306802005936  
Status : Answered  
Chosen Option : 2

Q.12 निम्नलिखित में से किस मंत्रालय ने 'मिशन अंत्योदय सर्वेक्षण 2022-23' लॉन्च किया?

- Ans  1. कृषि मंत्रालय  
 2. ग्रामीण विकास एवं पंचायती राज मंत्रालय  
 3. स्वास्थ्य मंत्रालय  
 4. शहरी विकास मंत्रालय

Question ID : 630680513289  
Option 1 ID : 6306802005860  
Option 2 ID : 6306802005861  
Option 3 ID : 6306802005858  
Option 4 ID : 6306802005859  
Status : Answered  
Chosen Option : 3

Q.13 वर्ष 2022 में शुरू किया गया "इन आवर लाइफ टाइम" अभियान; Life का मतलब क्या है?

- Ans  1. लाइफस्टाइल फॉर एनवायरनमेंट  
 2. लाइफस्टाइल फॉर इकोलॉजी  
 3. लाइफस्टाइल फॉर एंजॉयमेंट  
 4. लाइफस्टाइल फॉर अर्थ

Question ID : 630680513291  
Option 1 ID : 6306802005868  
Option 2 ID : 6306802005866  
Option 3 ID : 6306802005867  
Option 4 ID : 6306802005869  
Status : Answered  
Chosen Option : 3

Q.14 'मत्स्य 6000' क्या है?

- Ans  1. भारत का पहला मानवयुक्त अंतरिक्ष स्टेशन  
 2. समुद्र में गहराई तक जाने वाली भारत की पहली मानव चालित पनडुब्बी  
 3. भारत का पहला पानी के नीचे उपग्रह  
 4. भारत का पहला चंद्रमा मिशन

Question ID : 630680513287  
Option 1 ID : 6306802005853  
Option 2 ID : 6306802005851  
Option 3 ID : 6306802005852  
Option 4 ID : 6306802005850  
Status : Answered  
Chosen Option : 2

Q.15 वर्ष 2023 में राष्ट्रीय खेलों का आयोजन निम्नलिखित में से किस राज्य में हुआ है?

- Ans  1. गोवा  
 2. महाराष्ट्र  
 3. केरल  
 4. कर्नाटक

Question ID : 630680513310  
Option 1 ID : 6306802005943  
Option 2 ID : 6306802005942  
Option 3 ID : 6306802005944  
Option 4 ID : 6306802005945  
Status : Answered  
Chosen Option : 2

Q.16 रेगिस्तान महोत्सव का आयोजन प्रत्येक वर्ष निम्नलिखित में से किस भारतीय शहर में होता है?

- Ans  1. उदयपुर  
 2. जोधपुर  
 3. जयपुर  
 4. जैसलमेर

Question ID : 630680513301  
Option 1 ID : 6306802005906  
Option 2 ID : 6306802005907  
Option 3 ID : 6306802005908  
Option 4 ID : 6306802005909  
Status : Answered  
Chosen Option : 4

Q.17 वर्ष - 2011 की जनगणना के अंतिम आंकड़ों के अनुसार भारत की साक्षरता कितनी है?

- Ans  1. 73 %  
 2. 63 %  
 3. 80 %  
 4. 77 %

Question ID : 630680513303  
Option 1 ID : 6306802005915  
Option 2 ID : 6306802005914  
Option 3 ID : 6306802005917  
Option 4 ID : 6306802005916  
Status : Answered  
Chosen Option : 2

Q.18 निम्नलिखित में से कौन सी उत्पादन इकाइयाँ अर्थशास्त्र के प्राथमिक क्षेत्र के अंतर्गत आती हैं?

- Ans
- 1. संचार
  - 2. बैंकिंग
  - 3. विनिर्माण
  - 4. वानिकी

Question ID : 630680513292  
Option 1 ID : 6306802005872  
Option 2 ID : 6306802005873  
Option 3 ID : 6306802005870  
Option 4 ID : 6306802005871  
Status : Answered  
Chosen Option : 1

Q.19 पर्यावरण, वन और जलवायु परिवर्तन मंत्रालय और संयुक्त राष्ट्र विकास कार्यक्रम (यूएनडीपी) ने संयुक्त रूप से 18 से 23 वर्ष की आयु के युवाओं को स्थायी जीवन शैली के संदेशवाहक बनने के लिए प्रोत्साहित करने के लिए "इन आवर लाइफ टाइम" अभियान शुरू किया। इसे यहां लॉन्च किया गया था-

- Ans
- 1. शर्म अल-शेख 2022
  - 2. नई दिल्ली 2022
  - 3. सिंगापुर 2022
  - 4. दुबई 2022

Question ID : 630680513290  
Option 1 ID : 6306802005862  
Option 2 ID : 6306802005865  
Option 3 ID : 6306802005864  
Option 4 ID : 6306802005863  
Status : Answered  
Chosen Option : 1

Q.20 1939 में किस घटना से द्वितीय विश्व युद्ध की शुरुआत हुई?

- Ans
- 1. पोलैंड द्वारा जर्मनी पर आक्रमण
  - 2. इटली द्वारा रूस पर आक्रमण
  - 3. रूस द्वारा इटली पर आक्रमण
  - 4. जर्मनी द्वारा पोलैंड पर आक्रमण

Question ID : 630680513298  
Option 1 ID : 6306802005894  
Option 2 ID : 6306802005896  
Option 3 ID : 6306802005897  
Option 4 ID : 6306802005895  
Status : Answered  
Chosen Option : 1

Q.21 निम्नलिखित में से कौन सी भारतीय संविधान द्वारा मान्यता प्राप्त जनजातीय भाषा है?

- Ans  1. मराठी  
 2. बोडो  
 3. हिन्दी  
 4. उर्दू

Question ID : 630680513300  
Option 1 ID : 6306802005904  
Option 2 ID : 6306802005903  
Option 3 ID : 6306802005902  
Option 4 ID : 6306802005905  
Status : Answered  
Chosen Option : 2

Q.22 निम्नलिखित में से कौन से दो शहर ट्रांस-कैनेडियन राजमार्ग से जुड़े हुए हैं?

- Ans  1. ब्रिटिश कोलंबिया (पश्चिमी तट) में वैकूवर से सेंट जॉन्स सिटी तक न्यूफाउंडलैंड (पूर्वी तट)  
 2. ब्रिटिश कोलंबिया (पूर्वी तट) में वैकूवर से सेंट जॉन्स सिटी तक न्यूफाउंडलैंड (पश्चिमी तट)  
 3. न्यूफाउंडलैंड (पूर्वी तट) में सेंट जॉन्स सिटी से टोरंटो शहर तक  
 4. ब्रिटिश कोलंबिया (पश्चिमी तट) में वैकूवर से टोरंटो शहर तक

Question ID : 630680513304  
Option 1 ID : 6306802005920  
Option 2 ID : 6306802005918  
Option 3 ID : 6306802005921  
Option 4 ID : 6306802005919  
Status : Answered  
Chosen Option : 2

Q.23 1336 में राजधानी विजयनगर की स्थापना निम्नलिखित में से किस नदी के तट पर की गई थी?

- Ans  1. तुंगभद्रा  
 2. महानदी  
 3. गंगा  
 4. दामोदर

Question ID : 630680513297  
Option 1 ID : 6306802005890  
Option 2 ID : 6306802005891  
Option 3 ID : 6306802005893  
Option 4 ID : 6306802005892  
Status : Answered  
Chosen Option : 2

Q.24 निजी कंपनियों द्वारा भारत का पहला हाइब्रिड सार्जिंग रॉकेट निम्नलिखित में से किस राज्य से लॉन्च किया गया था?

- Ans  1. आंध्र प्रदेश  
 2. तमिलनाडु  
 3. केरल  
 4. कर्नाटक

Question ID : 630680513288  
Option 1 ID : 6306802005854  
Option 2 ID : 6306802005856  
Option 3 ID : 6306802005857  
Option 4 ID : 6306802005855  
Status : Answered  
Chosen Option : 1

Q.25 दिसंबर 1885 में भारतीय राष्ट्रीय कांग्रेस की स्थापना निम्नलिखित में से किस स्थान पर हुई थी?

- Ans  1. दिल्ली  
 2. बंबई  
 3. मद्रास  
 4. कलकत्ता

Question ID : 630680513296  
Option 1 ID : 6306802005886  
Option 2 ID : 6306802005887  
Option 3 ID : 6306802005889  
Option 4 ID : 6306802005888  
Status : Answered  
Chosen Option : 4

Section : Mathematics

Q.1 अरविंद ₹ 2850 में एक पुरानी स्कूटी खरीदता है और उसकी मरम्मत पर ₹ 650 खर्च करता है। यदि वह स्कूटी ₹ 5600 में बेचता है, तो उसका लाभ प्रतिशत क्या होगा?

- Ans  1. 60%  
 2. 54%  
 3. 51%  
 4. 58%

Question ID : 630680513325  
Option 1 ID : 6306802006005  
Option 2 ID : 6306802006003  
Option 3 ID : 6306802006002  
Option 4 ID : 6306802006004  
Status : Answered  
Chosen Option : 1

Q.2 एक दुकानदार एक वस्तु को 20% और 25% की दो क्रमिक छूट देकर बेचता है और फिर भी 60% लाभ अर्जित करने में सफल रहता है। यदि वस्तु का अंकित मूल्य ₹4000 है, तो वस्तु का क्रय मूल्य ज्ञात कीजिये।

- Ans
- 1. ₹ 1620
  - 2. ₹ 1440
  - 3. ₹ 2500
  - 4. ₹ 1500

Question ID : 630680513328

Option 1 ID : 6306802006015

Option 2 ID : 6306802006014

Option 3 ID : 6306802006017

Option 4 ID : 6306802006016

Status : Answered

Chosen Option : 4

Q.3 दो दर्जी सुनील और मनीषा को उनके नियोक्ता द्वारा प्रति सप्ताह कुल ₹ 690 का भुगतान किया जाता है। यदि सुनील को मनीषा के भुगतान की गई राशि का 130 प्रतिशत भुगतान किया जाता है, तो मनीषा को प्रति सप्ताह कितना भुगतान किया जाता है?

- Ans
- 1. ₹ 260
  - 2. ₹ 200
  - 3. ₹ 300
  - 4. ₹ 350

Question ID : 630680513324

Option 1 ID : 6306802005998

Option 2 ID : 6306802006001

Option 3 ID : 6306802005999

Option 4 ID : 6306802006000

Status : Answered

Chosen Option : 3

Q.4 एक राशि पर 6 प्रतिशत प्रति वर्ष की दर से कुल ₹ 1380 का साधारण ब्याज प्राप्त हुआ। 5 साल में धनराशि क्या होगी?

- Ans
- 1. ₹ 5500
  - 2. ₹ 3400
  - 3. ₹ 3200
  - 4. ₹ 4600

Question ID : 630680513313

Option 1 ID : 6306802005955

Option 2 ID : 6306802005954

Option 3 ID : 6306802005956

Option 4 ID : 6306802005957

Status : Answered

Chosen Option : 4

Q.5 4 मीटर भुजा वाले एक वर्गाकार कमरे के फर्श को पक्का करने के लिए आवश्यक 20 से.मी. × 40 से.मी. आकार के संगमरमर के स्लेबों की संख्या क्या होगी?

- Ans
- ✗ 1. 240
  - ✗ 2. 150
  - ✓ 3. 200
  - ✗ 4. 180

Question ID : 630680513334  
Option 1 ID : 6306802006041  
Option 2 ID : 6306802006038  
Option 3 ID : 6306802006039  
Option 4 ID : 6306802006040  
Status : Answered  
Chosen Option : 3

Q.6 2019 में एक स्थान की जनसंख्या 5% प्रति वर्ष की दर से बढ़कर 1,54,000 हो गई। तो 2017 में जनसंख्या ज्ञात कीजिए।

- Ans
- ✗ 1. 188785
  - ✗ 2. 128585
  - ✓ 3. 139682
  - ✗ 4. 148675

Question ID : 630680513315  
Option 1 ID : 6306802005965  
Option 2 ID : 6306802005962  
Option 3 ID : 6306802005963  
Option 4 ID : 6306802005964  
Status : Answered  
Chosen Option : 2

Q.7 तीन पाइप A, B और C एक टैंक को क्रमशः 26 मिनट, 20 मिनट और 10 मिनट में पूरा भर सकते हैं। जब टैंक खाली हो जाता है, तो तीनों पाइप खोल दिए जाते हैं। A, B और C क्रमशः रासायनिक समाधान P, Q और R का निर्वहन करते हैं। 4 मिनट के बाद टैंक में तरल में घोल R का अनुपात क्या है?

- Ans
- ✗ 1. 31/45
  - ✗ 2. 33/49
  - ✓ 3. 26/49
  - ✗ 4. 23/52

Question ID : 630680513331  
Option 1 ID : 6306802006026  
Option 2 ID : 6306802006029  
Option 3 ID : 6306802006027  
Option 4 ID : 6306802006028  
Status : Answered  
Chosen Option : 3

Q.8 चार वर्ष पहले A, B और C की औसत आयु 32 वर्ष थी। पाँच वर्ष पहले B और C की औसत आयु 18 वर्ष थी। A की वर्तमान आयु क्या है?

- Ans
- ✓ 1. 62 वर्ष
  - ✗ 2. 54 वर्ष
  - ✗ 3. 49 वर्ष
  - ✗ 4. 60 वर्ष

Question ID : 630680513312  
Option 1 ID : 6306802005950  
Option 2 ID : 6306802005952  
Option 3 ID : 6306802005951  
Option 4 ID : 6306802005953  
Status : Answered  
Chosen Option : 1

Q.9  $u : v = 3 : 8$  और  $v : w = 5 : 8$ . यदि  $u = 30$  है, तो  $w$  का मान क्या होगा?

- Ans
- ✗ 1. 130
  - ✗ 2. 60
  - ✗ 3. 85
  - ✓ 4. 128

Question ID : 630680513329  
Option 1 ID : 6306802006019  
Option 2 ID : 6306802006020  
Option 3 ID : 6306802006018  
Option 4 ID : 6306802006021  
Status : Answered  
Chosen Option : 4

Q.10 रवि ने ₹200 में एक वस्तु खरीदी। यदि वह 38% छूट देता है तो भी वह 11.6% लाभ अर्जित करता है। वस्तु का अंकित मूल्य ज्ञात कीजिये।

- Ans
- ✓ 1. ₹360
  - ✗ 2. ₹200
  - ✗ 3. ₹340
  - ✗ 4. ₹260

Question ID : 630680513327  
Option 1 ID : 6306802006010  
Option 2 ID : 6306802006011  
Option 3 ID : 6306802006013  
Option 4 ID : 6306802006012  
Status : Answered  
Chosen Option : 3

Q.11 यदि इन संख्याओं 38, 32, 44, X, 34, 72 का औसत 1240 है तो X का मान ज्ञात कीजिये?

- Ans  1. 7220  
 2. 4560  
 3. 3240  
 4. 5620

Question ID : 630680513311  
Option 1 ID : 6306802005948  
Option 2 ID : 6306802005946  
Option 3 ID : 6306802005947  
Option 4 ID : 6306802005949  
Status : Answered  
Chosen Option : 1

Q.12 एक आदमी 4 घंटे में धारा के प्रतिकूल 20 कि.मी. और धारा के अनुकूल 6 घंटे में 36 कि.मी. की दूरी तय करता है। तो शांत जल में मनुष्य की गति क्या है?

- Ans  1. 7.6 कि.मी./ घंटा  
 2. 8 कि.मी./ घंटा  
 3. 10 कि.मी./ घंटा  
 4. 5.5 कि.मी./ घंटा

Question ID : 630680513333  
Option 1 ID : 6306802006036  
Option 2 ID : 6306802006035  
Option 3 ID : 6306802006037  
Option 4 ID : 6306802006034  
Status : Answered  
Chosen Option : 4

Q.13 यदि मूलधन = ₹ 1,25,000, ब्याज दर = 10% अर्धवार्षिक रूप से संयोजित है। तो ज्ञात कीजिए।

- (i) 6 महीने के लिए चक्रवृद्धि ब्याज।  
(ii) 6 महीने बाद धनराशि।

- Ans  1. ₹ 7,250, ₹ 1,37,250  
 2. ₹ 6,250, ₹ 1,31,250  
 3. ₹ 5,250, ₹ 1,28,250  
 4. ₹ 4,250, ₹ 1,22,250

Question ID : 630680513314  
Option 1 ID : 6306802005961  
Option 2 ID : 6306802005960  
Option 3 ID : 6306802005959  
Option 4 ID : 6306802005958  
Status : Answered  
Chosen Option : 2

Q.14 सचिन और रवि के पास कुल मिलाकर ₹850 हैं। रवि से ₹200 लेने पर सचिन के पास उतनी ही राशि होगी जितनी रवि के पास पहले से थी। प्रारंभ में रवि और सचिन के पास जो राशि थी उसका अनुपात ज्ञात कीजिए।

- Ans
- 1. 20 : 11
  - 2. 22 : 15
  - 3. 31 : 13
  - 4. 21 : 13

Question ID : 630680513330  
Option 1 ID : 6306802006023  
Option 2 ID : 6306802006024  
Option 3 ID : 6306802006025  
Option 4 ID : 6306802006022  
Status : Answered  
Chosen Option : 2

Q.15 एक गोले की त्रिज्या 6 से.मी. है। एक ठोस बेलन की आधार त्रिज्या 4 से.मी. है। यदि बेलन का कुल पृष्ठीय क्षेत्रफल गोले के पृष्ठीय क्षेत्रफल का आधा है, तो बेलन की ऊँचाई ज्ञात कीजिए।

- Ans
- 1. 5 से.मी.
  - 2. 8 से.मी.
  - 3. 12 से.मी.
  - 4. 10 से.मी.

Question ID : 630680513335  
Option 1 ID : 6306802006044  
Option 2 ID : 6306802006045  
Option 3 ID : 6306802006042  
Option 4 ID : 6306802006043  
Status : Answered  
Chosen Option : 3

Q.16 560 मीटर लंबी ट्रेन A, 84 कि.मी. प्रति घंटे की गति से चल रही है, विपरीत दिशा में 60 कि.मी. प्रति घंटे की गति से चल रही 380 मीटर लंबी दूसरी ट्रेन में बैठे एक व्यक्ति को पार करने में कितना समय लेगी?

- Ans
- 1. 20 सेकंड
  - 2. 14 सेकंड
  - 3. 25 सेकंड
  - 4. 18 सेकंड

Question ID : 630680513332  
Option 1 ID : 6306802006032  
Option 2 ID : 6306802006033  
Option 3 ID : 6306802006031  
Option 4 ID : 6306802006030  
Status : Answered  
Chosen Option : 1

Q.17 निम्नलिखित में से कौन सा  $x^3$  के बराबर है?

- Ans
- ✓ 1.  $x^{12} / x^9$
  - ✗ 2.  $x^3 / x^1$
  - ✗ 3.  $x^3 * x^1$
  - ✗ 4.  $x^{12} * x^9$

Question ID : 630680513321  
Option 1 ID : 6306802005988  
Option 2 ID : 6306802005987  
Option 3 ID : 6306802005986  
Option 4 ID : 6306802005989  
Status : Answered  
Chosen Option : 2

Q.18 दिए गए मिश्रित आवर्ती दशमलव को साधारण भिन्न में बदलें:  $0.2\overline{19}$ .

- Ans
- ✓ 1. 217/990
  - ✗ 2. 220/999
  - ✗ 3. 220/990
  - ✗ 4. 217/999

Question ID : 630680513318  
Option 1 ID : 6306802005976  
Option 2 ID : 6306802005975  
Option 3 ID : 6306802005974  
Option 4 ID : 6306802005977  
Status : Answered  
Chosen Option : 1

Q.19 दो उम्मीदवारों के बीच एक चुनाव में, एक को कुल वैध वोटों में से 40% वोट मिले, 20% वोट अवैध थे। यदि कुल मतों की संख्या 4200 थी, तो दूसरे उम्मीदवार को प्राप्त वैध मतों की संख्या क्या थी?

- Ans
- ✗ 1. 1748
  - ✓ 2. 2016
  - ✗ 3. 2145
  - ✗ 4. 1902

Question ID : 630680513323  
Option 1 ID : 6306802005997  
Option 2 ID : 6306802005996  
Option 3 ID : 6306802005994  
Option 4 ID : 6306802005995  
Status : Answered  
Chosen Option : 2

Q.20 20 से 40 के बीच प्रथम अभाज्य संख्याओं का माध्य क्या होगा?

- Ans
- 1. 26
  - 2. 30
  - 3. 29
  - 4. 31

Question ID : 630680513317  
Option 1 ID : 6306802005970  
Option 2 ID : 6306802005972  
Option 3 ID : 6306802005971  
Option 4 ID : 6306802005973  
Status : Answered  
Chosen Option : 2

Q.21 जब एक प्लॉट ₹16800 में बेचा जाता है, तो मालिक को 30% का नुकसान होता है। 30% लाभ प्राप्त करने के लिए उस प्लॉट को किस कीमत पर बेचा जाना चाहिए?

- Ans
- 1. ₹ 26800
  - 2. ₹ 31200
  - 3. ₹ 24200
  - 4. ₹ 32500

Question ID : 630680513326  
Option 1 ID : 6306802006006  
Option 2 ID : 6306802006009  
Option 3 ID : 6306802006008  
Option 4 ID : 6306802006007  
Status : Answered  
Chosen Option : 2

Q.22 यदि  $(62)^2 - (46)^2 = 16 * x$  है, तो x का मान क्या है?

- Ans
- 1. 110
  - 2. 113
  - 3. 108
  - 4. 115

Question ID : 630680513322  
Option 1 ID : 6306802005991  
Option 2 ID : 6306802005992  
Option 3 ID : 6306802005990  
Option 4 ID : 6306802005993  
Status : Answered  
Chosen Option : 3

Q.23 यदि संख्या A434, 11 से विभाज्य है, तो A का मान क्या होगा?

- Ans
- ✓ 1. 5
  - ✗ 2. 7
  - ✗ 3. 4
  - ✗ 4. 6

Question ID : 630680513316  
Option 1 ID : 6306802005967  
Option 2 ID : 6306802005969  
Option 3 ID : 6306802005966  
Option 4 ID : 6306802005968  
Status : Answered  
Chosen Option : 1

Q.24  $\frac{(12.2)^2 - (8.2)^2}{8.4 - 6.2}$  का मान क्या होगा?

- Ans
- ✓ 1. 37.1
  - ✗ 2. 42.2
  - ✗ 3. 46
  - ✗ 4. 32.5

Question ID : 630680513319  
Option 1 ID : 6306802005979  
Option 2 ID : 6306802005980  
Option 3 ID : 6306802005981  
Option 4 ID : 6306802005978  
Status : Answered  
Chosen Option : 1

Q.25 सरलीकरण कीजिये  
 $2160 \div [20\{(10-6)+(26-12)\}]$

- Ans
- ✗ 1. 5
  - ✓ 2. 6
  - ✗ 3. 8
  - ✗ 4. 12

Question ID : 630680513320  
Option 1 ID : 6306802005985  
Option 2 ID : 6306802005984  
Option 3 ID : 6306802005983  
Option 4 ID : 6306802005982  
Status : Answered  
Chosen Option : 2

Q.1 नीचे दी गई श्रृंखला को तार्किक रूप से पूर्ण बनाने के लिए प्रश्न चिह्न (?) के स्थान पर क्या आएगा?

37, 52, 44, 59, 51, 66, 58, ??

Ans  1. 81, 96

2. 73, 65

3. 96, 81

4. 65, 73

Question ID : 630680513357

Option 1 ID : 6306802006131

Option 2 ID : 6306802006132

Option 3 ID : 6306802006130

Option 4 ID : 6306802006133

Status : Answered

Chosen Option : 2

Q.2 राहुल की पत्नी की बहन की माँ राहुल से किस प्रकार संबंधित है?

Ans  1. दादी

2. माँ

3. सास

4. चाची

Question ID : 630680513338

Option 1 ID : 6306802006055

Option 2 ID : 6306802006056

Option 3 ID : 6306802006057

Option 4 ID : 6306802006054

Status : Answered

Chosen Option : 3

Q.3 निम्नलिखित में से कौन सा विकल्प नीचे दिए गए चित्र में प्रश्न चिह्न को प्रतिस्थापित करेगा?



X



1



2



3



4

Ans  1. 3

2. 1

3. 2

4. 4

Question ID : 630680513349

Option 1 ID : 6306802006100

Option 2 ID : 6306802006098

Option 3 ID : 6306802006099

Option 4 ID : 6306802006101

Status : Answered

Chosen Option : 2

Q.4 खिलाड़ी एवं उनसे संबंधित खेल के आधार पर निम्नलिखित में से कौन सा विकल्प अन्य तीन विकल्पों से भिन्न है?

Ans  1. सानिया मिर्जा

2. पुलेला गोपीचंद

3. लक्ष्य सेन

4. साइना नेहवाल

Question ID : 630680513344

Option 1 ID : 6306802006081

Option 2 ID : 6306802006078

Option 3 ID : 6306802006080

Option 4 ID : 6306802006079

Status : Answered

Chosen Option : 3

Q.5 श्रृंखला में ऐसे कितने प्रतीक हैं जिनके बाद अक्षर आते हैं?

J # D 4 \$ 8 M ^ 6 V B 4 # 7 6 Z ^ B 4 M @ 6 B 4 # N 7 &

- Ans
- 1. 6
  - 2. 3
  - 3. 5
  - 4. 4

Question ID : 630680513348  
Option 1 ID : 6306802006097  
Option 2 ID : 6306802006094  
Option 3 ID : 6306802006096  
Option 4 ID : 6306802006095  
Status : Answered  
Chosen Option : 2

Q.6 यदि श्रृंखला से सभी प्रतीक हटा दिए जाएं, तो बायीं ओर से ग्यारहवां तत्व क्या होगा?

@ 8 M 6 B 4 # 7 N V % 6 ! H 8 # 3 J 5 V D 8 V & B 4 @

- Ans
- 1. 3
  - 2. 8
  - 3. J
  - 4. H

Question ID : 630680513347  
Option 1 ID : 6306802006090  
Option 2 ID : 6306802006091  
Option 3 ID : 6306802006093  
Option 4 ID : 6306802006092  
Status : Answered  
Chosen Option : 2

Q.7 नीचे दी गई श्रृंखला को तार्किक रूप से पूर्ण बनाने के लिए प्रश्न चिह्न (?) के स्थान पर क्या आएगा?

40, 27, 41, 28, 42, 29, ?

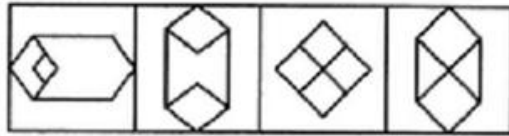
- Ans
- 1. 42
  - 2. 38
  - 3. 30
  - 4. 43

Question ID : 630680513358  
Option 1 ID : 6306802006137  
Option 2 ID : 6306802006136  
Option 3 ID : 6306802006134  
Option 4 ID : 6306802006135  
Status : Answered  
Chosen Option : 4

Q.8 निम्नलिखित में से कौन सा विकल्प मूल छवि (X) को एम्बेड करेगा?



X



1.

2.

3.

4.

Ans  1. 1

2. 2

3. 3

4. 4

Question ID : 630680513351

Option 1 ID : 6306802006106

Option 2 ID : 6306802006107

Option 3 ID : 6306802006108

Option 4 ID : 6306802006109

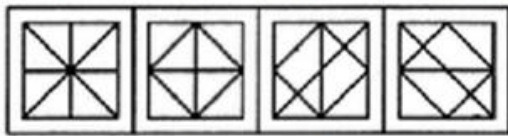
Status : Answered

Chosen Option : 2

Q.9 निम्नलिखित में से कौन सा विकल्प मूल छवि (X) को एम्बेड करेगा?



X



1.

2.

3.

4.

Ans  1. 4

2. 1

3. 2

4. 3

Question ID : 630680513352

Option 1 ID : 6306802006113

Option 2 ID : 6306802006110

Option 3 ID : 6306802006111

Option 4 ID : 6306802006112

Status : Answered

Chosen Option : 2

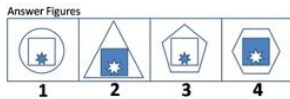
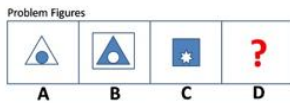
Q.10 निम्नलिखित में से कौन सा विकल्प नीचे दिए गए चित्र में प्रश्न चिह्न को प्रतिस्थापित करेगा?



- Ans
- 1. 2
  - 2. 4
  - 3. 3
  - 4. 1

Question ID : 630680513350  
 Option 1 ID : 6306802006103  
 Option 2 ID : 6306802006105  
 Option 3 ID : 6306802006104  
 Option 4 ID : 6306802006102  
 Status : Answered  
 Chosen Option : 2

Q.11 निम्नलिखित 4 उत्तर आकृतियों में से कौन सी समस्या आकृति D में प्रश्न चिह्न का स्थान लेगी?



- Ans
- 1. 4
  - 2. 2
  - 3. 3
  - 4. 1

Question ID : 630680513356  
 Option 1 ID : 6306802006129  
 Option 2 ID : 6306802006127  
 Option 3 ID : 6306802006128  
 Option 4 ID : 6306802006126  
 Status : Answered  
 Chosen Option : 3

Q.12 एक निश्चित कोड भाषा में, PAIR को 44 के रूप में लिखा जाता है और CHAIR को 39 के रूप में लिखा जाता है। उसी कोड में CARE को कैसे लिखा जाएगा?

- Ans
- ✓ 1. 27
  - ✗ 2. 28
  - ✗ 3. 29
  - ✗ 4. 26

Question ID : 630680513337  
Option 1 ID : 6306802006051  
Option 2 ID : 6306802006052  
Option 3 ID : 6306802006053  
Option 4 ID : 6306802006050  
Status : Answered  
Chosen Option : 1

Q.13 निम्नलिखित में से कौन सा विकल्प मानव शरीर के अंग और रोग के आधार पर प्रश्न चिह्न का स्थान लेगा?

आंख : ग्लूकोमा :: हृदय : ?

- Ans
- ✗ 1. टीबी
  - ✗ 2. ऑस्टियोपोरोसिस
  - ✗ 3. सिरोसिस
  - ✓ 4. मायोकार्डियल इन्फार्क्शन

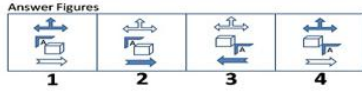
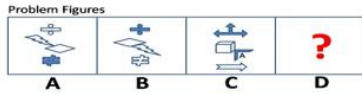
Question ID : 630680513340  
Option 1 ID : 6306802006064  
Option 2 ID : 6306802006063  
Option 3 ID : 6306802006065  
Option 4 ID : 6306802006062  
Status : Answered  
Chosen Option : 4

Q.14 यदि  $A > B > C > D > E > F$ , तो दी गई श्रृंखला में निम्नलिखित में से कौन सा सबसे छोटा है?

- Ans
- ✗ 1. C
  - ✓ 2. F
  - ✗ 3. E
  - ✗ 4. D

Question ID : 630680513346  
Option 1 ID : 6306802006087  
Option 2 ID : 6306802006086  
Option 3 ID : 6306802006089  
Option 4 ID : 6306802006088  
Status : Answered  
Chosen Option : 2

Q.15 निम्नलिखित 4 उत्तर आकृतियों में से कौन सी समस्या आकृति D में प्रश्न चिह्न का स्थान लेगी?



- Ans
- 1. 3
  - 2. 1
  - 3. 4
  - 4. 2

Question ID : 630680513355

Option 1 ID : 6306802006124

Option 2 ID : 6306802006122

Option 3 ID : 6306802006125

Option 4 ID : 6306802006123

Status : Answered

Chosen Option : 4

Q.16 राज्य और उनसे संबंधित शहर के आधार पर निम्नलिखित में से कौन सा विकल्प अन्य तीन विकल्पों से भिन्न है?

- Ans
- 1. शिमला
  - 2. सहारनपुर
  - 3. आगरा
  - 4. लखनऊ

Question ID : 630680513342

Option 1 ID : 6306802006071

Option 2 ID : 6306802006072

Option 3 ID : 6306802006070

Option 4 ID : 6306802006073

Status : Answered

Chosen Option : 1

Q.17 एक निश्चित कूट भाषा में, FACIAL को LAICAF के रूप में लिखा जाता है और BLEACH को HCAELB के रूप में लिखा जाता है। उसी कोड में BEAUTY को कैसे लिखा जाएगा?

- Ans
- 1. BEAYTU
  - 2. TYUBEA
  - 3. YTUAEB
  - 4. AEBUTY

Question ID : 630680513336

Option 1 ID : 6306802006048

Option 2 ID : 6306802006047

Option 3 ID : 6306802006046

Option 4 ID : 6306802006049

Status : Answered

Chosen Option : 3

Q.18 भारत का राष्ट्रीय प्रतीक एवं उनसे संबंधित जानवरों के आधार पर निम्नलिखित में से कौन सा विकल्प अन्य तीन विकल्पों से भिन्न है?

- Ans
- ✓ 1. शेर
  - ✗ 2. बाघ
  - ✗ 3. डॉल्फिन
  - ✗ 4. मोर

Question ID : 630680513343  
Option 1 ID : 6306802006076  
Option 2 ID : 6306802006074  
Option 3 ID : 6306802006077  
Option 4 ID : 6306802006075  
Status : Answered  
Chosen Option : 1

Q.19 एक तस्वीर की ओर इशारा करते हुए सुनील बोलता है कि तस्वीर वाली महिला उसके नानी कि इकलौती बेटा है। तस्वीर वाली महिला से सुनील किस प्रकार संबंधित है?

- Ans
- ✗ 1. माँ
  - ✗ 2. दादी
  - ✓ 3. सास
  - ✗ 4. चाची

Question ID : 630680513339  
Option 1 ID : 6306802006059  
Option 2 ID : 6306802006058  
Option 3 ID : 6306802006060  
Option 4 ID : 6306802006061  
Status : Answered  
Chosen Option : 1

Q.20 निम्नलिखित श्रृंखला को तार्किक रूप से पूर्ण बनाने के लिए प्रश्न चिह्न (??) के स्थान पर क्या आएगा?

AC 21, EG 32, IK 43, MO 54 ??

- Ans
- ✗ 1. SQ 65
  - ✗ 2. SR 65
  - ✓ 3. QS 65
  - ✗ 4. RS 65

Question ID : 630680513345  
Option 1 ID : 6306802006082  
Option 2 ID : 6306802006085  
Option 3 ID : 6306802006083  
Option 4 ID : 6306802006084  
Status : Answered  
Chosen Option : 3

Q.21 यदि 'A' का अर्थ है 'गुणा', 'B' का अर्थ है 'विभाजन', 'C' का अर्थ है 'घटाना' और 'D' का अर्थ है 'जोड़', तो निम्नलिखित अभिव्यक्ति का मान क्या होगा?

13 A 6 C 36 B 3 D 4 = ?

- Ans
- 1. 60
  - 2. 86
  - 3. 68
  - 4. 70

Question ID : 630680513360

Option 1 ID : 6306802006142

Option 2 ID : 6306802006144

Option 3 ID : 6306802006145

Option 4 ID : 6306802006143

Status : Answered

Chosen Option : 4

Q.22 निम्नलिखित में से कौन सा विकल्प निम्नलिखित दर्पण छवि MAGAZINE से काफी मिलता जुलता है?

MAGAZINE

(1) MAGAZINE

(2) ENIZAGAM

(3) MAGAZINE

(4) ENIZAGAM

- Ans
- 1. 2
  - 2. 3
  - 3. 1
  - 4. 4

Question ID : 630680513353

Option 1 ID : 6306802006115

Option 2 ID : 6306802006116

Option 3 ID : 6306802006114

Option 4 ID : 6306802006117

Status : Answered

Chosen Option : 4

Q.23 निम्नलिखित में से कौन सा विकल्प निम्नलिखित दर्पण छवि SUPERVISOR से काफी मिलता जुलता है?

SUPERVISOR

(1) ЯОЭИУЯЭПУЭ

(2) ЭПЬЕЯЛИЭОЯ

(3) ЯЭОПЬЭЯИЯ

(4) ЭПЬЕЯЛИЭЭЯ

Ans  1. 4

2. 3

3. 1

4. 2

Question ID : 630680513354

Option 1 ID : 6306802006121

Option 2 ID : 6306802006120

Option 3 ID : 6306802006118

Option 4 ID : 6306802006119

Status : Answered

Chosen Option : 3

Q.24 यदि 'A' का अर्थ है 'गुणा', 'B' का अर्थ है 'विभाजन', 'C' का अर्थ है 'घटाना' और 'D' का अर्थ है 'जोड़', तो निम्नलिखित अभिव्यक्ति का मान क्या होगा?

16 A 4 C 22 B 2 D 8 = ?

Ans  1. 16

2. 15

3. 61

4. 59

Question ID : 630680513359

Option 1 ID : 6306802006140

Option 2 ID : 6306802006138

Option 3 ID : 6306802006141

Option 4 ID : 6306802006139

Status : Answered

Chosen Option : 3

Q.25 निम्नलिखित में से कौन सा विकल्प खिलाड़ी और खेल के आधार पर प्रश्न चिह्न का स्थान लेगा?

ग्रीम स्मिथ : क्रिकेट :: बजरंग पुनिया : ?

Ans

- 1. हाँकी
- 2. कुश्ती
- 3. बैडमिंटन
- 4. शतरंज

Question ID : 630680513341  
Option 1 ID : 6306802006067  
Option 2 ID : 6306802006068  
Option 3 ID : 6306802006066  
Option 4 ID : 6306802006069  
Status : Answered  
Chosen Option : 2

Section : General English

Q.1 Select the most appropriate SYNONYM of the word highlighted/ given in brackets in the below sentence.

For a comfortable life after employment, an individual needs to have a (reliable) saving plan that ensures that they can easily access services like healthcare.

Ans

- 1. responsible
- 2. uncertain
- 3. unsafe
- 4. false

Question ID : 630680513375  
Option 1 ID : 6306802006202  
Option 2 ID : 6306802006203  
Option 3 ID : 6306802006205  
Option 4 ID : 6306802006204  
Status : Not Answered  
Chosen Option : --

Q.2 In the following question a statement has been given with highlighted text. You are required to replace the text with correct Idioms given in the options.

She is 80 years old and still considers herself (fit and very healthy and strong).

Ans

- 1. through thick and thin
- 2. be (as) fit as a fiddle
- 3. to bell the cat
- 4. read between the lines

Question ID : 630680513371  
Option 1 ID : 6306802006188  
Option 2 ID : 6306802006187  
Option 3 ID : 6306802006189  
Option 4 ID : 6306802006186  
Status : Not Answered  
Chosen Option : --

**Q.3** The following sentence has been divided into parts. One of them may contain an error. Select the part that contains the preposition error from the given options.  
The/ meeting/ took place/ on the company's/ headquarters.

- Ans  1. on the company's  
 2. took place  
 3. headquarters  
 4. The

Question ID : 630680513363  
Option 1 ID : 6306802006157  
Option 2 ID : 6306802006155  
Option 3 ID : 6306802006156  
Option 4 ID : 6306802006154  
Status : Not Answered  
Chosen Option : --

**Q.4** Choose the most appropriate one-word substitution for the below word.  
"A short story, typically with animals as characters, conveying a moral"

- Ans  1. Fable  
 2. Handbook  
 3. catalogue  
 4. Novel

Question ID : 630680513366  
Option 1 ID : 6306802006168  
Option 2 ID : 6306802006169  
Option 3 ID : 6306802006167  
Option 4 ID : 6306802006166  
Status : Not Answered  
Chosen Option : --

**Q.5** Fill in the blank with the correct word from the below options.  
In today's digital age, cybercrime is an ever-present \_\_\_\_\_ to individuals and organizations alike.

- Ans  1. shield  
 2. stored  
 3. threat  
 4. implement

Question ID : 630680513380  
Option 1 ID : 6306802006225  
Option 2 ID : 6306802006222  
Option 3 ID : 6306802006223  
Option 4 ID : 6306802006224  
Status : Not Answered  
Chosen Option : --

**Q.6** Choose the most appropriate one-word substitution for the below word.  
"The study of Human Mind"

- Ans
- 1. Neurologist
  - 2. Zoology
  - 3. Psychology
  - 4. Geology

Question ID : 630680513365  
Option 1 ID : 6306802006162  
Option 2 ID : 6306802006164  
Option 3 ID : 6306802006163  
Option 4 ID : 6306802006165  
Status : **Not Answered**  
Chosen Option : --

**Q.7** Fill in the blank with the correct word from the below options.  
Many people think of global warming and climate change as synonyms, but scientists prefer to use "climate change" when describing the \_\_\_\_\_ shifts now affecting our planet's weather and climate systems.

- Ans
- 1. fewer
  - 2. impacts
  - 3. complex
  - 4. disappeared

Question ID : 630680513377  
Option 1 ID : 6306802006213  
Option 2 ID : 6306802006212  
Option 3 ID : 6306802006211  
Option 4 ID : 6306802006210  
Status : **Not Answered**  
Chosen Option : --

**Q.8** Select the appropriate article from the below options to complete the sentence. Mark "No article" if there is no requirement of article in the given sentence.  
I'm just going to \_\_\_\_\_ post office. I won't be long.

- Ans
- 1. an
  - 2. No article
  - 3. a
  - 4. the

Question ID : 630680513362  
Option 1 ID : 6306802006152  
Option 2 ID : 6306802006151  
Option 3 ID : 6306802006153  
Option 4 ID : 6306802006150  
Status : **Not Answered**  
Chosen Option : --

**Q.9** In the below sentence one of the words has been misspelt. Choose from the below given options that spells the word in bold correctly.  
One of the most effective ways to improve air quality is by (impleamenting) policies that regulate industrial pollution. Many factories and plants worldwide use outdated production methods and technologies that release a significant amount of waste.

- Ans  1. implementeing  
 2. implemanting  
 3. implementing  
 4. impleementing

Question ID : 630680513368  
Option 1 ID : 6306802006176  
Option 2 ID : 6306802006174  
Option 3 ID : 6306802006177  
Option 4 ID : 6306802006175  
Status : Not Answered  
Chosen Option : --

**Q.10** In the following question a statement has been given with highlighted text. You are required to replace the text with correct Idioms given in the options.  
My father (ended the quarrel and made peace) by equally diving the pasta between me and my sister.

- Ans  1. add insult to injury  
 2. bigger fish to fry  
 3. Bury the Hatchet  
 4. Hit the books

Question ID : 630680513370  
Option 1 ID : 6306802006183  
Option 2 ID : 6306802006184  
Option 3 ID : 6306802006185  
Option 4 ID : 6306802006182  
Status : Not Answered  
Chosen Option : --

**Q.11** Select the appropriate article from the below options to complete the sentence. Mark "No article" if there is no requirement of article in the given sentence.

The doctor we normally consult says that \_\_\_\_\_ child is suffering from the measles.

- Ans  1. an  
 2. the  
 3. a  
 4. No article

Question ID : 630680513361  
Option 1 ID : 6306802006148  
Option 2 ID : 6306802006149  
Option 3 ID : 6306802006146  
Option 4 ID : 6306802006147  
Status : Not Answered  
Chosen Option : --

Q.12 Select the most appropriate SYNONYM of the word highlighted/ given in brackets in the below sentence.

Recent advancements in transport by land, sea, and air have transformed the way we travel, making it faster, more (convenient), and reliable.

- Ans
- 1. unreachable
  - 2. unavailable
  - 3. accessible
  - 4. hidden

Question ID : 630680513373  
Option 1 ID : 6306802006194  
Option 2 ID : 6306802006196  
Option 3 ID : 6306802006197  
Option 4 ID : 6306802006195  
Status : Not Answered  
Chosen Option : --

Q.13 In the following question a statement has been given with highlighted text. You are required to replace the text with correct Idioms given in the options.

Adam says that the new cars are (sold quickly and in large numbers).

- Ans
- 1. seeing eye to eye
  - 2. selling like hot cakes
  - 3. when pigs fly
  - 4. bread and butter

Question ID : 630680513372  
Option 1 ID : 6306802006190  
Option 2 ID : 6306802006192  
Option 3 ID : 6306802006191  
Option 4 ID : 6306802006193  
Status : Not Answered  
Chosen Option : --

Q.14 The following sentence has been divided into parts. One of them may contain an error.

Select the part that contains the preposition error from the given options.

My train/ arrives/ at/ 11:30 a.m. Can you/ meet me/ from/ the station?

- Ans
- 1. arrives
  - 2. at
  - 3. from
  - 4. the station

Question ID : 630680513364  
Option 1 ID : 6306802006161  
Option 2 ID : 6306802006158  
Option 3 ID : 6306802006159  
Option 4 ID : 6306802006160  
Status : Not Answered  
Chosen Option : --

Q.15 Fill in the blank with the correct word from the below options.

Paying for private health insurance is another way to \_\_\_\_\_ that an individual has access to good quality healthcare services in their retirement years.

- Ans
- 1. pressure
  - 2. remit
  - 3. ensure
  - 4. ability

Question ID : 630680513378

Option 1 ID : 6306802006217

Option 2 ID : 6306802006214

Option 3 ID : 6306802006216

Option 4 ID : 6306802006215

Status : Not Answered

Chosen Option : --

Q.16 In the below sentence one of the words has been misspelt. Choose from the below given options that spells the word in bold correctly.

Apart from restricting industrial pollution, it is also crucial to encourage every citizen to reduce their daily contaminant (**emissiions**). The use of vehicles with low fuel efficiency is one of the primary sources of air pollution.

- Ans
- 1. emmissions
  - 2. emissions
  - 3. emmissons
  - 4. emmissions

Question ID : 630680513369

Option 1 ID : 6306802006178

Option 2 ID : 6306802006179

Option 3 ID : 6306802006181

Option 4 ID : 6306802006180

Status : Not Answered

Chosen Option : --

Q.17 Fill in the blank with the correct word from the below options.

With a reliable retirement savings plan in place, retirees can look forward to a comfortable and financially \_\_\_\_\_ life after employment.

- Ans
- 1. insecure
  - 2. secure
  - 3. increase
  - 4. provide

Question ID : 630680513379

Option 1 ID : 6306802006218

Option 2 ID : 6306802006221

Option 3 ID : 6306802006220

Option 4 ID : 6306802006219

Status : Not Answered

Chosen Option : --

**Q.18** Choose the most appropriate one-word substitution for the below word.  
"The study of ancient writing and scriptures"

- Ans  1. Anthropology  
 2. Palaeography  
 3. Philology  
 4. Lexicography

Question ID : 630680513367  
Option 1 ID : 6306802006170  
Option 2 ID : 6306802006172  
Option 3 ID : 6306802006173  
Option 4 ID : 6306802006171  
Status : Not Answered  
Chosen Option : --

**Q.19** Fill in the blank with the correct word from the below options.  
In the shadowy world of espionage, intelligence and \_\_\_\_\_ operations, the only rule is to never get caught carrying out a mission.

- Ans  1. covert  
 2. shadow  
 3. credibility  
 4. friendly

Question ID : 630680513376  
Option 1 ID : 6306802006208  
Option 2 ID : 6306802006206  
Option 3 ID : 6306802006207  
Option 4 ID : 6306802006209  
Status : Not Answered  
Chosen Option : --

**Q.20** Select the most appropriate SYNONYM of the word highlighted/ given in brackets in the below sentence.  
The fast pace of modern life requires (swift) communication and transportation.

- Ans  1. quick  
 2. careful  
 3. slow  
 4. leisure

Question ID : 630680513374  
Option 1 ID : 6306802006200  
Option 2 ID : 6306802006199  
Option 3 ID : 6306802006198  
Option 4 ID : 6306802006201  
Status : Not Answered  
Chosen Option : --

**Comprehension:**

Refer to the below passage and answer the questions.

The non-availability of credible, coherent data on the economy and society is a problem that needs urgent attention. Recently, there has been a spate of writing on India's statistical system and the data produced by it. The ensuing debate has witnessed active participation from within and outside the government. While discussions on data and its veracity are welcome, the important point on the usefulness of available data to measure social and economic progress of a transforming economy looms large. The debate has also to be seen in the context of the increasing global prominence of the economy and India's election to the highest statistical body of the UN for a four-year term.

Economic and social data ideally is a public good. Its provision, like many other public goods, is the responsibility of the government. While there are numerous private data-generating and publishing entities, they exclude data consumers through their pricing and restrictive access policies. Anticipating this, independent India planned for a well-designed statistical system and embarked on the journey of setting it up at both at the Centre and in the States. As noted by a leading journalist in a paper, "India's statistical system was the envy of the world till the early 1970s". However, over time, this saw a steady decline and has reached its present state, which is the subject of the current debate.

**SubQuestion No : 21**

**Q.21 Select the most appropriate SYNONYM of the given word below.**

**Veracity**

- Ans**
- 1. Dishonesty
  - 2. Conman
  - 3. Reliability
  - 4. Lying

Question ID : **630680513384**

Option 1 ID : **6306802006235**

Option 2 ID : **6306802006237**

Option 3 ID : **6306802006234**

Option 4 ID : **6306802006236**

Status : **Not Answered**

Chosen Option : --

**Comprehension:**

Refer to the below passage and answer the questions.

The non-availability of credible, coherent data on the economy and society is a problem that needs urgent attention. Recently, there has been a spate of writing on India's statistical system and the data produced by it. The ensuing debate has witnessed active participation from within and outside the government. While discussions on data and its veracity are welcome, the important point on the usefulness of available data to measure social and economic progress of a transforming economy looms large. The debate has also to be seen in the context of the increasing global prominence of the economy and India's election to the highest statistical body of the UN for a four-year term.

Economic and social data ideally is a public good. Its provision, like many other public goods, is the responsibility of the government. While there are numerous private data-generating and publishing entities, they exclude data consumers through their pricing and restrictive access policies. Anticipating this, independent India planned for a well-designed statistical system and embarked on the journey of setting it up at both at the Centre and in the States. As noted by a leading journalist in a paper, "India's statistical system was the envy of the world till the early 1970s". However, over time, this saw a steady decline and has reached its present state, which is the subject of the current debate.

**SubQuestion No : 22**

**Q.22 Identify the suitable title for the passage.**

- Ans
- 1. India's statistical system- a big time failure
  - 2. Data- invalid requirement for today's era
  - 3. Data and the threats related to it
  - 4. The debate on data

Question ID : 630680513382

Option 1 ID : 6306802006228

Option 2 ID : 6306802006227

Option 3 ID : 6306802006226

Option 4 ID : 6306802006229

Status : **Not Answered**

Chosen Option : --

**Comprehension:**

Refer to the below passage and answer the questions.

The non-availability of credible, coherent data on the economy and society is a problem that needs urgent attention. Recently, there has been a spate of writing on India's statistical system and the data produced by it. The ensuing debate has witnessed active participation from within and outside the government. While discussions on data and its veracity are welcome, the important point on the usefulness of available data to measure social and economic progress of a transforming economy looms large. The debate has also to be seen in the context of the increasing global prominence of the economy and India's election to the highest statistical body of the UN for a four-year term.

Economic and social data ideally is a public good. Its provision, like many other public goods, is the responsibility of the government. While there are numerous private data-generating and publishing entities, they exclude data consumers through their pricing and restrictive access policies. Anticipating this, independent India planned for a well-designed statistical system and embarked on the journey of setting it up at both at the Centre and in the States. As noted by a leading journalist in a paper, "India's statistical system was the envy of the world till the early 1970s". However, over time, this saw a steady decline and has reached its present state, which is the subject of the current debate.

**SubQuestion No : 23**

**Q.23 Identify the central theme of the passage.**

- Ans**  1. The passage talks about India's exclusion to the highest statistical body of the UN for a four-year term.
2. The passage talks about the non-availability of required resources for the development of society.
3. The passage talks about the usefulness of available data to measure social and economic progress of a transforming economy.
4. The passage talks about the independent India's statistical system and its uselessness.

Question ID : **630680513383**

Option 1 ID : **6306802006232**

Option 2 ID : **6306802006230**

Option 3 ID : **6306802006233**

Option 4 ID : **6306802006231**

Status : **Not Answered**

Chosen Option : --

**Comprehension:**

Refer to the below passage and answer the questions.

The non-availability of credible, coherent data on the economy and society is a problem that needs urgent attention. Recently, there has been a spate of writing on India's statistical system and the data produced by it. The ensuing debate has witnessed active participation from within and outside the government. While discussions on data and its veracity are welcome, the important point on the usefulness of available data to measure social and economic progress of a transforming economy looms large. The debate has also to be seen in the context of the increasing global prominence of the economy and India's election to the highest statistical body of the UN for a four-year term.

Economic and social data ideally is a public good. Its provision, like many other public goods, is the responsibility of the government. While there are numerous private data-generating and publishing entities, they exclude data consumers through their pricing and restrictive access policies. Anticipating this, independent India planned for a well-designed statistical system and embarked on the journey of setting it up at both at the Centre and in the States. As noted by a leading journalist in a paper, "India's statistical system was the envy of the world till the early 1970s". However, over time, this saw a steady decline and has reached its present state, which is the subject of the current debate.

**SubQuestion No : 24**

**Q.24 Select the most appropriate ANTONYM of the given word below.**  
**envy**

- Ans**  1. hatred  
 2. enmity  
 3. jealousy  
 4. kindness

Question ID : **630680513386**

Option 1 ID : **6306802006242**

Option 2 ID : **6306802006244**

Option 3 ID : **6306802006243**

Option 4 ID : **6306802006245**

Status : **Not Answered**

Chosen Option : --

**Comprehension:**

Refer to the below passage and answer the questions.

The non-availability of credible, coherent data on the economy and society is a problem that needs urgent attention. Recently, there has been a spate of writing on India's statistical system and the data produced by it. The ensuing debate has witnessed active participation from within and outside the government. While discussions on data and its veracity are welcome, the important point on the usefulness of available data to measure social and economic progress of a transforming economy looms large. The debate has also to be seen in the context of the increasing global prominence of the economy and India's election to the highest statistical body of the UN for a four-year term.

Economic and social data ideally is a public good. Its provision, like many other public goods, is the responsibility of the government. While there are numerous private data-generating and publishing entities, they exclude data consumers through their pricing and restrictive access policies. Anticipating this, independent India planned for a well-designed statistical system and embarked on the journey of setting it up at both at the Centre and in the States. As noted by a leading journalist in a paper, "India's statistical system was the envy of the world till the early 1970s". However, over time, this saw a steady decline and has reached its present state, which is the subject of the current debate.

**SubQuestion No : 25**

**Q.25 Select the most appropriate SYNONYM of the given word below.**  
**credible**

- Ans
- 1. questionable
  - 2. unlikely
  - 3. doubtful
  - 4. acceptable

Question ID : 630680513385

Option 1 ID : 6306802006241

Option 2 ID : 6306802006238

Option 3 ID : 6306802006239

Option 4 ID : 6306802006240

Status : **Not Answered**

Chosen Option : --

Section : **General Hindi**

**Q.1 निम्नलिखित में से कौन सा शब्द "अराग" का विलोम शब्द है?**

- Ans
- 1. सुराग
  - 2. निराग
  - 3. विराग
  - 4. अर्पण

Question ID : 630680513402

Option 1 ID : 6306802006306

Option 2 ID : 6306802006307

Option 3 ID : 6306802006308

Option 4 ID : 6306802006309

Status : **Answered**

Chosen Option : 1

Q.2 "कौमुदी" निम्नलिखित में से किस शब्द का पर्यावाची शब्द है?

- Ans  1. काम  
 2. चांदी  
 3. सुंदर  
 4. चंद्रिका

Question ID : 630680513401  
Option 1 ID : 6306802006302  
Option 2 ID : 6306802006303  
Option 3 ID : 6306802006305  
Option 4 ID : 6306802006304  
Status : Answered  
Chosen Option : 3

Q.3 औगुन शब्द में कौन सा उपसर्ग है?

- Ans  1. अ  
 2. आ  
 3. आव  
 4. अव

Question ID : 630680513391  
Option 1 ID : 6306802006262  
Option 2 ID : 6306802006265  
Option 3 ID : 6306802006263  
Option 4 ID : 6306802006264  
Status : Answered  
Chosen Option : 4

Q.4 शब्द नीलकमल में कौन सा समास है?

- Ans  1. बहुव्रीही समास  
 2. द्विगु समास  
 3. कर्मधारय समास  
 4. तत्पुरुष समास

Question ID : 630680513395  
Option 1 ID : 6306802006280  
Option 2 ID : 6306802006281  
Option 3 ID : 6306802006279  
Option 4 ID : 6306802006278  
Status : Answered  
Chosen Option : 4

Q.5 "मुँह चुराना" मुहावरे का अर्थ निम्नलिखित में से क्या है?

- Ans
- 1. पक्षपात करना
  - 2. परास्त होना
  - 3. घूस देना
  - 4. संकोच करना

Question ID : 630680513407  
Option 1 ID : 6306802006327  
Option 2 ID : 6306802006329  
Option 3 ID : 6306802006328  
Option 4 ID : 6306802006326  
Status : Answered  
Chosen Option : 4

Q.6 निम्नलिखित में से कौन सा वर्ण - व्रण शब्द युग्म का सुसंगत अर्थभेद है?

- Ans
- 1. रंग - घाव
  - 2. मनुष्य श्रेणी - प्रतिज्ञा
  - 3. भेद - जाती
  - 4. श्वेत - अक्षर

Question ID : 630680513405  
Option 1 ID : 6306802006318  
Option 2 ID : 6306802006320  
Option 3 ID : 6306802006321  
Option 4 ID : 6306802006319  
Status : Answered  
Chosen Option : 1

Q.7 सब पुस्तकें \_\_\_\_\_ बिखरी पड़ी थीं।

- Ans
- 1. सर्वत्र
  - 2. अन्यत्र
  - 3. तत्र
  - 4. यत्र - तत्र

Question ID : 630680513410  
Option 1 ID : 6306802006340  
Option 2 ID : 6306802006338  
Option 3 ID : 6306802006341  
Option 4 ID : 6306802006339  
Status : Answered  
Chosen Option : 4

Q.8 स्वर संधि के कितने भेद होते हैं?

Ans  1. 4

2. 5

3. 3

4. 2

Question ID : 630680513388

Option 1 ID : 6306802006251

Option 2 ID : 6306802006252

Option 3 ID : 6306802006250

Option 4 ID : 6306802006253

Status : Answered

Chosen Option : 1

Q.9 सामयिक शब्द में कौन सा प्रत्यय है?

Ans  1. यिक

2. मयिक

3. यीक

4. इक

Question ID : 630680513393

Option 1 ID : 6306802006271

Option 2 ID : 6306802006272

Option 3 ID : 6306802006273

Option 4 ID : 6306802006270

Status : Answered

Chosen Option : 4

Q.10 "अधजल गगरी छलकत जाय" लोकोक्ति का क्या अर्थ है?

Ans  1. कम गुण वाला व्यक्ति दिखावा बहुत करता है।

2. निर्दयी या मूर्ख के आगे दुखड़ा रोना बेकार होता है।

3. बर्तन में कम पानी हमेशा छलकता है।

4. परस्पर संगठन या मेल न रखना।

Question ID : 630680513408

Option 1 ID : 6306802006332

Option 2 ID : 6306802006331

Option 3 ID : 6306802006333

Option 4 ID : 6306802006330

Status : Answered

Chosen Option : 1

Q.11 निम्नलिखित में से कौन सा शब्द "आभ्यंतर" का विलोम शब्द है?

- Ans  1. आगम  
 2. बाह्य  
 3. अंतर  
 4. आंतरिक

Question ID : 630680513403  
Option 1 ID : 6306802006313  
Option 2 ID : 6306802006312  
Option 3 ID : 6306802006310  
Option 4 ID : 6306802006311  
Status : Answered  
Chosen Option : 4

Q.12 नवग्रह में कौन सा समास है?

- Ans  1. द्विगु समास  
 2. द्वंद समास  
 3. कर्मधारय समास  
 4. तत्पुरुष समास

Question ID : 630680513394  
Option 1 ID : 6306802006276  
Option 2 ID : 6306802006274  
Option 3 ID : 6306802006277  
Option 4 ID : 6306802006275  
Status : Answered  
Chosen Option : 4

Q.13 निम्नलिखित में से कौन शब्द गंगाजल का सामासिक विग्रह है ?

- Ans  1. गंगाजल  
 2. गंगा में जल  
 3. गंगा और जल  
 4. गंगा का जल

Question ID : 630680513396  
Option 1 ID : 6306802006285  
Option 2 ID : 6306802006283  
Option 3 ID : 6306802006284  
Option 4 ID : 6306802006282  
Status : Answered  
Chosen Option : 4

Q.14 जिस व्यक्ति पर मुकदमा चल रहा हो उसे क्या कहते हैं?

- Ans  1. अभियुक्त  
 2. प्रतिवादी  
 3. वादी  
 4. पीड़ित

Question ID : 630680513399  
Option 1 ID : 6306802006297  
Option 2 ID : 6306802006295  
Option 3 ID : 6306802006294  
Option 4 ID : 6306802006296  
Status : Answered  
Chosen Option : 2

Q.15 "बाड़ ही जब खेत को खाए तो रखवाली कौन करे" लोकोक्ति का क्या अर्थ है?

- Ans  1. छोटे का बड़े से बढ़ जाना।  
 2. रक्षक का भक्षक हो जाना।  
 3. बड़ा होकर यदि किसी के काम न आए, तो बड़प्पन व्यर्थ है।  
 4. धन ही सबसे बड़ा होता है।

Question ID : 630680513409  
Option 1 ID : 6306802006336  
Option 2 ID : 6306802006334  
Option 3 ID : 6306802006337  
Option 4 ID : 6306802006335  
Status : Answered  
Chosen Option : 2

Q.16 निम्नलिखित में से किस स्थान पर उपसर्ग का प्रयोग होता है?

- Ans  1. दो वर्णों के मध्य में  
 2. शब्द के अंत में  
 3. शब्द के आरंभ में  
 4. शब्द के मध्य में

Question ID : 630680513390  
Option 1 ID : 6306802006261  
Option 2 ID : 6306802006259  
Option 3 ID : 6306802006258  
Option 4 ID : 6306802006260  
Status : Answered  
Chosen Option : 1

Q.17 निम्नलिखित में से किस स्थान पर प्रत्यय का प्रयोग होता है?

- Ans
- 1. शब्द के मध्य में
  - 2. शब्द के आरंभ में
  - 3. दो वर्णों के मध्य में
  - 4. शब्द के अंत में

Question ID : 630680513392  
Option 1 ID : 6306802006268  
Option 2 ID : 6306802006266  
Option 3 ID : 6306802006269  
Option 4 ID : 6306802006267  
Status : Answered  
Chosen Option : 4

Q.18 निम्नलिखित में से कौन सा शब्द वाक्य "जिसके पास कुछ न हो" के लिए सबसे सटीक अर्थ प्रदान करता है?

- Ans
- 1. अकिंचन
  - 2. निर्धन
  - 3. सकिंचन
  - 4. अनाथ

Question ID : 630680513398  
Option 1 ID : 6306802006291  
Option 2 ID : 6306802006292  
Option 3 ID : 6306802006290  
Option 4 ID : 6306802006293  
Status : Answered  
Chosen Option : 2

Q.19 आण्विक संसाधन असीमित शक्ति का \_\_\_ है।

- Ans
- 1. स्रोत
  - 2. माध्यम
  - 3. उपकरण
  - 4. यंत्र

Question ID : 630680513411  
Option 1 ID : 6306802006345  
Option 2 ID : 6306802006344  
Option 3 ID : 6306802006343  
Option 4 ID : 6306802006342  
Status : Answered  
Chosen Option : 1

Q.20 उज्ज्वल का संधि विच्छेद निम्नलिखित में से कौन है?

- Ans  1. उ + ज्ज्वल  
 2. उत् + ज्वल  
 3. उ + ज्वल  
 4. उज्ज + वल

Question ID : 630680513389  
Option 1 ID : 6306802006257  
Option 2 ID : 6306802006255  
Option 3 ID : 6306802006256  
Option 4 ID : 6306802006254  
Status : Answered  
Chosen Option : 2

Q.21 सिंधुर्मि का संधि विच्छेद निम्नलिखित में से क्या है?

- Ans  1. सिंधू + उर्मि  
 2. सिंधू + उर्मि  
 3. सिंधु + उर्मि  
 4. सिंधु+उर्मि

Question ID : 630680513387  
Option 1 ID : 6306802006248  
Option 2 ID : 6306802006247  
Option 3 ID : 6306802006249  
Option 4 ID : 6306802006246  
Status : Answered  
Chosen Option : 2

Q.22 निम्नलिखित में से कौन शब्द कृषिप्रधान का सामासिक विग्रह है?

- Ans  1. कृषि में प्रधान  
 2. कृषि के लिए प्रधान  
 3. कृषि का प्रधान  
 4. प्रधान कृषि

Question ID : 630680513397  
Option 1 ID : 6306802006288  
Option 2 ID : 6306802006289  
Option 3 ID : 6306802006286  
Option 4 ID : 6306802006287  
Status : Answered  
Chosen Option : 1

Q.23 पट निम्नलिखित में से किस शब्द का पर्यावाची शब्द है?

- Ans  1. कपड़ा  
 2. कमला  
 3. किरण  
 4. कमल

Question ID : 630680513400  
Option 1 ID : 6306802006298  
Option 2 ID : 6306802006300  
Option 3 ID : 6306802006301  
Option 4 ID : 6306802006299  
Status : Answered  
Chosen Option : 1

Q.24 "हाथ आना" मुहावरे का अर्थ निम्नलिखित में से क्या है?

- Ans  1. सहायता देना  
 2. अधिकार में आना  
 3. मदद करना  
 4. अलग होना

Question ID : 630680513406  
Option 1 ID : 6306802006322  
Option 2 ID : 6306802006325  
Option 3 ID : 6306802006323  
Option 4 ID : 6306802006324  
Status : Answered  
Chosen Option : 2

Q.25 निम्नलिखित में से किस शब्द-युग्म का अर्थभेद सही सुमेलित नहीं है?

- Ans  1. कोर- कौर - किनारा - ग्रास  
 2. रिक्त- रिक्थ - शून्य - धन  
 3. कटक - कटुक - तीक्ष्ण - सेना  
 4. अब्ज - अब्द - कमाल - वर्ष

Question ID : 630680513404  
Option 1 ID : 6306802006316  
Option 2 ID : 6306802006314  
Option 3 ID : 6306802006315  
Option 4 ID : 6306802006317  
Status : Answered  
Chosen Option : 2